

## Задание 1.

Дополните информацию в тексте и выполните задание на контурной карте.



### Республика Беларусь.

Площадь территории Беларуси – \_\_\_\_\_ км<sup>2</sup>.

Протяженность с севера на юг – \_\_\_\_\_ км, с запада на восток – \_\_\_\_\_ км.

Республика Беларусь граничит с \_\_\_\_ странами (нанесите на карту страны-соседи). Самая протяженная граница Беларуси с \_\_\_\_\_, она составляет более 1 000 км.

В Республике Беларусь проживает – \_\_\_\_ млн. человек. (на 01.01.2024 года). Среди городов первое место по численности населения занимает Минск, а второе – город \_\_\_\_\_.

Территория Беларуси преимущественно равнинная. Высшая точка Республики Беларусь – \_\_\_\_\_ имеет высоту \_\_\_\_\_ метров над уровнем моря. (Отметьте и подпишите на контурной карте высшую точку Беларуси).

Беларусь называют «Край блакітных азёр» из-за большого количества озер. Самое крупное озеро Беларуси – \_\_\_\_\_ (1), а самое глубокое – озеро \_\_\_\_\_ (2). (Отметьте на контурной карте эти озера, подписав их соответствующими цифрами.)

По территории Беларуси протекает чуть более 20 тыс. рек. Самые крупные из них:

река \_\_\_\_\_ - протекает через город Могилёв,  
\_\_\_\_\_ - протекает через город Витебск,  
\_\_\_\_\_ - протекает вблизи города Туров,  
\_\_\_\_\_ - протекает через город Гродно,  
\_\_\_\_\_ - протекает через город Гомель,  
\_\_\_\_\_ - протекает через город Брест.


## Задание 2.

### Часть А. Ответьте на вопросы.

1. Верно ли утверждение, что на территории современной Витебской области проживало племя кривичей?  
\_\_\_\_\_
2. Как называли Бога Солнца древние белорусы?  
\_\_\_\_\_
3. Какой город современной Беларуси первым получил право на самоуправление? \_\_\_\_\_
4. Какой город Беларуси самый древний? \_\_\_\_\_
5. Первое упоминание этого белорусского города относится к 1067 году \_\_\_\_\_
6. Какой белорусский город был первой столицей Великого Княжества Литовского? \_\_\_\_\_
7. Какой князь ВКЛ возглавлял армию против крестоносцев в Грюнвальдской битве? \_\_\_\_\_
8. В каком году была образована Белорусская Советская Социалистическая Республика? \_\_\_\_\_
9. Назовите дату начала Великой Отечественной войны.  
\_\_\_\_\_ (день, месяц, год).
10. Назовите дату освобождения Минска от немецко-фашистских захватчиков. \_\_\_\_\_ (день, месяц, год).
11. С каким событием в истории Беларуси связана дата 26 апреля 1986 года? \_\_\_\_\_
12. В каком году Республика Беларусь была объявлена самостоятельным государством? \_\_\_\_\_
13. Какой элемент на флаге Республики Беларусь символизирует любовь белорусского народа к труду?  
\_\_\_\_\_









14. Какой элемент на гербе Беларуси символизирует безопасность и мужественность белорусского народа, готовность каждого жителя защищать свою Родину?  
\_\_\_\_\_
15. Какой государственный праздник приходится на второе воскресенье мая? \_\_\_\_\_

### Часть Б. Установите соответствие между гербами и городами Беларуси.



Брест, Витебск, Гомель, Гродно, Минск, Могилев, Полоцк, Туров.





















**Задание 3. Заполните таблицу, напишите фамилию и имя человека и укажите номер факта (фактов) из его жизни.**

								Известные белорусы
								Имя и Фамилия
								Номер факта о его жизни и деятельности

- Государственный и политический деятель, был одним из составителей Статута ВКЛ в XVI столетии.
- Кому из известных людей принадлежат слова:  
*«Мой родны кут, як ты мне мілы!  
Забыць цябе не маю сілы!..»*
- Народный поэт Беларуси, родился в деревне Акинчицы Минской области.
- Осуществил три полета в составе экипажей космических кораблей и орбитальных комплексов.
- Полоцкий монах, который одним из первых открыл школьный театр.
- Его первой печатной книгой стал «Букварь», который он сам составил.
- Ему установлен памятник возле Национальной библиотеки.
- Самые известные люди нашей страны награждаются орденами его имени.
- Первый Герой Республики Беларусь.
- Белорусский поэт, родился в деревне Вязинка в 1882 году. Ему принадлежат строки:  
*«Ад прадзедаў спакон вякоў  
Мне засталася спадчына;  
Паміж сваіх і чужакоў  
Яна мне ласкай матчынай...»*
- Основатель популярного вокально-инструментального ансамбля, специально выучил белорусский язык, чтобы исполнять песни на нем.
- Первый белорусский космонавт, ученый в области технических наук, дважды Герой Советского Союза.

### Задание 4.





**Часть А. Выберите правильный вариант ответа, подпишите под картинкой соответствующий вариант ответа**

1.	<p>А. рябина Б. осина В. вяз Г. липа</p>				
2.	<p>А. линнея северная Б. ятрышник шлемовидный В. кувшинка белая Г. чабрец (Тимьян ползучий)</p>				
3.	<p>А. кваква Б. сапсан В. пискулька Г. орлан белохвост</p>				
4.	<p>А. барсук Б. европейская норка В. крапчатый суслик Г. обыкновенная летяга</p>				
5.	<p>А. малая вечерница Б. садовая соя В. соя полчок Г. прудовая ночница</p>				

**Часть Б. Выберите правильный вариант ответа.  
(обведите в кружочек)**

1. Наиболее крупное месторождение калийных солей в Беларуси расположено вблизи города:  
**А. Солигорск    Б. Мозырь    В. Жодино    Г. Каменец**
2. Крупнейшее месторождение каменной соли в Беларуси расположено вблизи города:  
**А. Солигорск    Б. Мозырь    В. Жодино    Г. Каменец**
3. Крупнейшие месторождения нефти в Беларуси расположены вблизи городов:  
**А. Речица и Светлогорск    Б. Минск и Дзержинск  
В. Брест и Каменец            Г. Гомель и Мозырь**
4. Верно ли утверждение: «Каменную соль используют для производства мыла, керамики, стекла, лекарств»?  
**А. Верно            Б. Неверно**
5. Верно ли утверждение: «Месторождения торфа распространены по всей территории Беларуси»  
**А. Верно            Б. Неверно**
6. Верно ли утверждение: «Из калийной соли, которая залегает в земле, производят пищевую (поваренную) соль»  
**А. Верно            Б. Неверно**
7. Верно ли утверждение: «Из каменной соли получают ценное удобрение, которое улучшает плодородие почвы, повышает урожайность растений»  
**А. Верно            Б. Неверно**

**Задание 5. Найдите названия достопримечательностей Беларуси в списке и отметьте под соответствующим изображением.**

				<ol style="list-style-type: none"> <li>1. Национальная Академия наук Беларуси.</li> <li>2. Минская городская ратуша.</li> <li>3. Ворота Минска.</li> <li>4. Спасо-Ефрасиньевский монастырь.</li> <li>5. Гродненский замок.</li> <li>6. Гомельский дворец.</li> <li>7. Лидский замок.</li> <li>8. Мирский замок.</li> <li>9. Несвижский замок.</li> <li>10. Брестская крепость, Холмские ворота.</li> <li>11. Дворец Сапег, Ружаны.</li> <li>12. Каменная башня.</li> <li>13. Троицкое предместье.</li> <li>14. Костел Святых Симона и Елены, Минск.</li> <li>15. Каложская церковь, Гродно.</li> <li>16. Остатки Новогрудского замка.</li> <li>17. Сынковичская церковь-крепость.</li> </ol>
